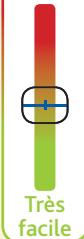




Sentier Forestier du Laring Monein

Très difficile



Très facile

2 h 30



Dénivelé : 145 m

4,5 km

Parking maison Ticoulat

Se rendre au départ

Depuis Monein, prendre la D9 en direction d'Oloron-Sainte-Marie. À la sortie de Monein, au rond-point de la "Porte", prendre à gauche la route Ucha. Passer le quartier Ucha. Après le domaine Bordenave prendre à gauche, en direction du sentier du Laring. Continuer tout droit par le Chemin de Baysere. Au niveau de la maison Ticoulat, se garer sur le parking à gauche avec une cabane.

Situé au sud du territoire de la communauté de communes de Lacq-Orthez, le secteur de Monein s'étend sur des coteaux aux vallons resserrés, et sépare la vallée du Gave de Pau de celle du Gave d'Oloron-Sainte-Marie. Ici, le vignoble du Jurançon qui s'étale sur plus de 1000 hectares, profite d'un climat qui associe la rigueur montagnarde et la douceur océanique. L'été indien béarnais et le vent du sud offrent des vins moelleux d'exception, forgeant le caractère de ce grand vin.

Le sentier du Laring

Entre bois et vignes, cette agréable balade aux chemins ombragés est jalonnée de panneaux explicatifs. Partez à la découverte de la forêt du Laring et ses spécificités. Appréciez la vue sur les Pyrénées.



Dans Monein

Osez pousser la porte de l'office de tourisme Cœur de Béarn et venez visiter l'église St Girons (la plus grande église gothique du Béarn) avec son exceptionnelle charpente en forme de double coque de bateau renversé (accessible par visite guidée).

Horaires des visites :

Du 15 avril au 30 juin et du 21 septembre au 15 octobre : les mardis, jeudis et vendredis à 16h, les mercredis et samedis à 15h et 17h. Sauf jours fériés : 1, 8, 29 mai et 9 juin.

Du 1^{er} juillet au 20 septembre : tous les jours à 11h, 15h et 17h. Les dimanches et jours fériés à 15h et 17h.

Du 16 octobre au 14 avril : les mercredis et samedis à 16h. Sauf jours fériés.

Accueil de groupes toute l'année sur réservation.

Tenir compte des offices religieux (mariages, obsèques...) après renseignements à l'office de tourisme.

Durée totale de la visite : 1h15

Tarifs :

Adulte : 5€

Jeune (12 à 16 ans) : 2€

Réduit : 4€

Enfant (-12 ans) : gratuit

Plus d'infos : www.coeurdebearn.com



Road-book

Soyez vigilants avec vos enfants notamment sur les zones non piétonnes. Le parcours s'effectue sous votre entière responsabilité. La CCLO et la société Randoland déclinent toute responsabilité en cas d'accident.

Cette agréable balade forestière aux chemins ombragés est jalonnée de panneaux explicatifs.

Pour le premier indice, observer le panneau « Sentier forestier du Laring » ①.

Du parking, prendre à droite sur la route.

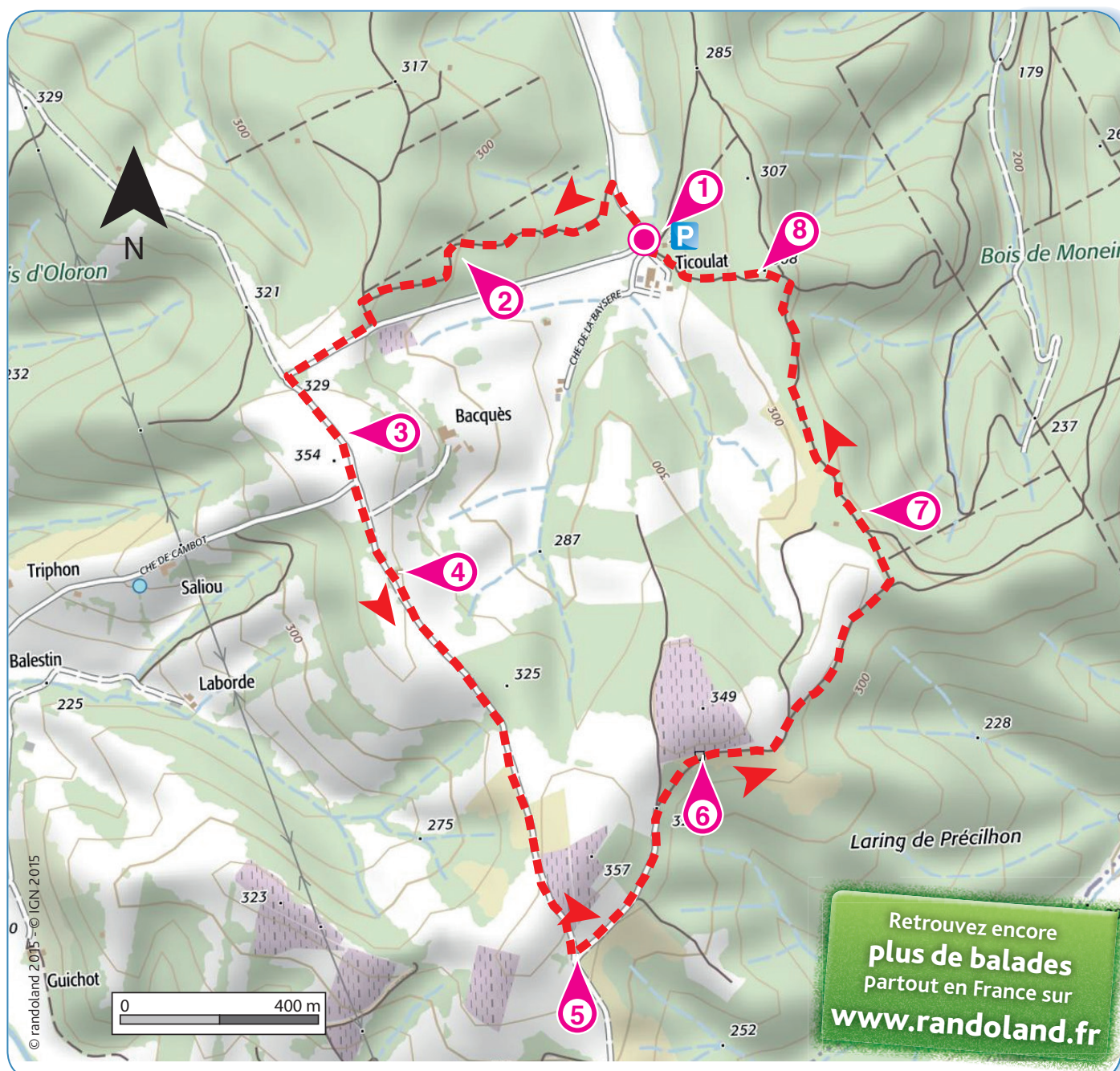
Les indices suivants sont collectés

sur les panneaux :

- Le chêne pédonculé ② .
- Le figuier ③ .
- La grange "Jubilé" ④ .
- La formation des Pyrénées ⑤ .
- La stèle ⑥ .
- L'écosystème forestier ⑦ .
- Le lierre ⑧ .

Continuer la descente jusqu'au parking.

Fin de la balade.




Retrouvez encore
plus de balades
partout en France sur
www.randoland.fr

L'Inspecteur Rando part en balade. Mais par où va-t-il passer ?

Pour découvrir le chemin emprunté, utilise les informations de la page suivante. Attention, l'Inspecteur Rando ne doit jamais revenir sur ses pas !

Chaque fois qu'il trouvera une friandise sur sa route, colorie, dans l'ordre, un bonbon de la frise.

En fin de parcours, note dans la case réponse le nombre de bonbons trouvés par l'Inspecteur Rando.



© randoland 2015. Illustrations : Armelle Drouin.

Tu peux te rendre à l'Office de Tourisme ou sur le site www.randoland.fr pour vérifier ta réponse (code énigme 6-439301P).

1 2 3 4 5 6 7 8 9 10

Ta réponse

POUR ACHETER LE FICHIER NON PROTÉGÉ, RENDEZ-VOUS SUR WWW.RANDOLAND.FR

CETTE PAGE EST PROTÉGÉE. CETTE PAGE EST PROTÉGÉE.

1 Panneau de départ / Parking

Quel objet géographique météorologique n'est pas représenté sur celui que tu peux voir sur le panneau ?
Tu vas découvrir la première étape de l'Inspecteur aido.

5 La formation des Pyrénées

Quels objets géographiques n'ont pas été représentés sur les graphiques du panneau ?



CETTE PAGE EST PROTÉGÉE. CETTE PAGE EST PROTÉGÉE.

POUR ACHETER LE FICHIER NON PROTÉGÉ, RENDEZ-VOUS SUR WWW.RANDOLAND.FR

CETTE PAGE EST PROTÉGÉE. CETTE PAGE EST PROTÉGÉE.

POUR ACHETER LE FICHIER NON PROTÉGÉ, RENDEZ-VOUS SUR WWW.RANDOLAND.FR

CETTE PAGE EST PROTÉGÉE. CETTE PAGE EST PROTÉGÉE.

2 Le chêne pédonculé

Quels objets sont représentés sur le panneau ?

6 La stèle

Quels fruits sont de la même couleur que ceux représentés sur le panneau ?



CETTE PAGE EST PROTÉGÉE. CETTE PAGE EST PROTÉGÉE.

POUR ACHETER LE FICHIER NON PROTÉGÉ, RENDEZ-VOUS SUR WWW.RANDOLAND.FR

CETTE PAGE EST PROTÉGÉE. CETTE PAGE EST PROTÉGÉE.

POUR ACHETER LE FICHIER NON PROTÉGÉ, RENDEZ-VOUS SUR WWW.RANDOLAND.FR

3 Le figuier

Combien d'enfants sont représentés sous la tente visible sur ce panneau ?

7 L'écosystème forestier

Quel animal n'est pas représenté sur le panneau ?



CETTE PAGE EST PROTÉGÉE. CETTE PAGE EST PROTÉGÉE.

POUR ACHETER LE FICHIER NON PROTÉGÉ, RENDEZ-VOUS SUR WWW.RANDOLAND.FR

CETTE PAGE EST PROTÉGÉE. CETTE PAGE EST PROTÉGÉE.

POUR ACHETER LE FICHIER NON PROTÉGÉ, RENDEZ-VOUS SUR WWW.RANDOLAND.FR

4 Le jeu "Jubilé"

Un mot a été effacé sur cette page. Quelles lettres d'étiquettes te permet de le reconstituer ?

8 Le lierre

Quels chiffres sont écrits sur le panneau ?



CETTE PAGE EST PROTÉGÉE. CETTE PAGE EST PROTÉGÉE.

POUR ACHETER LE FICHIER NON PROTÉGÉ, RENDEZ-VOUS SUR WWW.RANDOLAND.FR

CETTE PAGE EST PROTÉGÉE. CETTE PAGE EST PROTÉGÉE.

POUR ACHETER LE FICHIER NON PROTÉGÉ, RENDEZ-VOUS SUR WWW.RANDOLAND.FR

CETTE PAGE EST PROTÉGÉE. CETTE PAGE EST PROTÉGÉE.



ÉNIGME

Les anciens de Monein vous le diront, lorsque les étés ensoleillés sentaient bon les vacances, les jeunes et les moins jeunes s'attardaient sous les tonnelles des maisons béarnaises, autour d'un dessert rafraîchissant : la dégustation d'une belle pêche juteuse.

Cette variété était typique de la région de Monein, se caractérisant par une belle couleur jaune, tachée de rouge et particulièrement juteuse. Elle était déjà réputée à la fin du XIX^e siècle. Elle était, à cette époque déjà, la reine des fêtes patronales du village dites Foire aux pêches et aux raisins.

Cette production a disparu peu à peu dans les années 1960.

Une trentaine d'agriculteurs locaux travaillent à la relance de ce fruit.

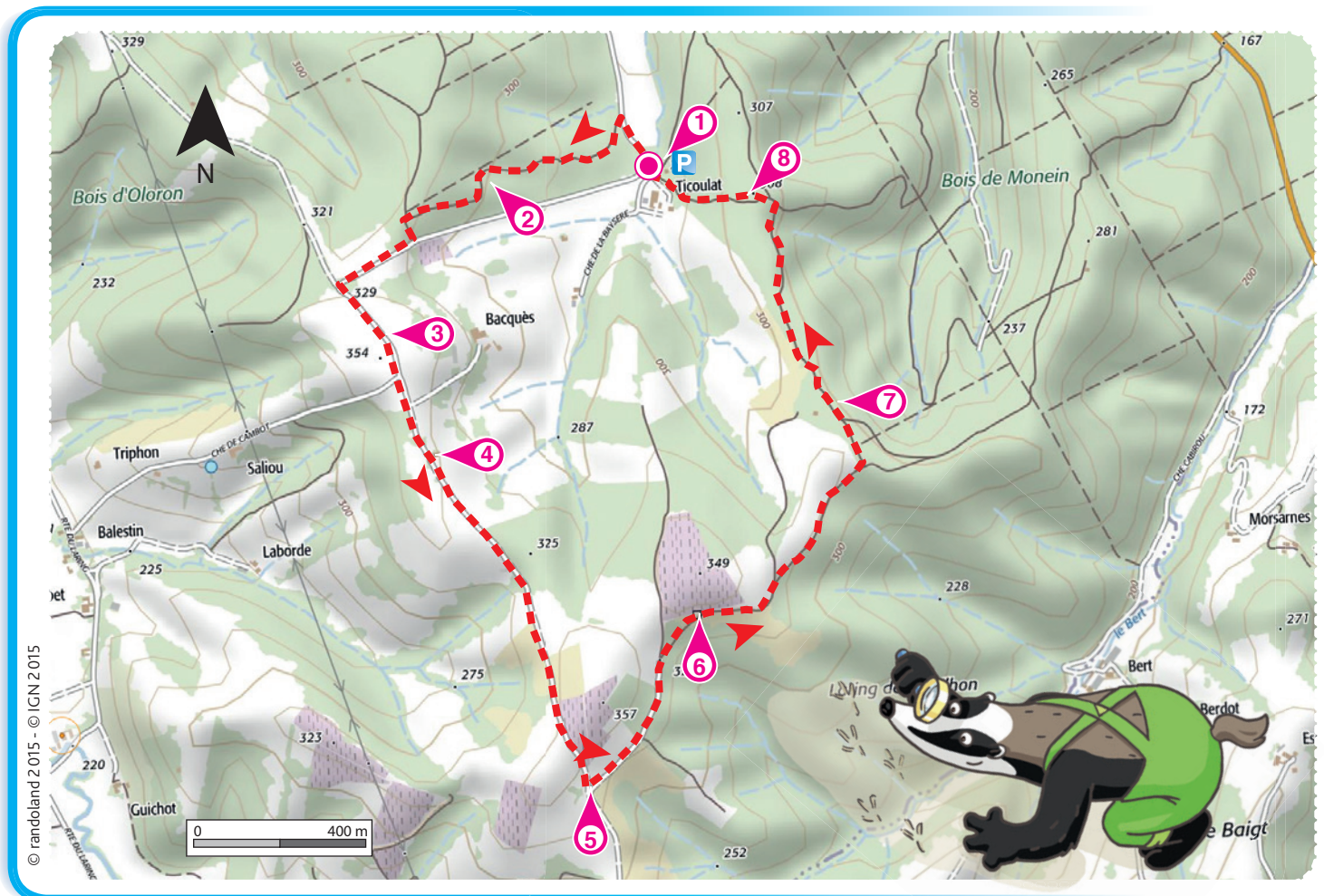
Sauras-tu retrouver le nom de cette pêche, reine des fêtes de Monein, le premier week-end d'août ?



Tu disposes du plan ci-dessous.

À l'emplacement des points rouges, lis les indications qui te permettront de résoudre l'énigme principale.

À la fin de ta balade, rends-toi à l'office de tourisme ou sur le site www.randoland.fr pour vérifier ta réponse.



POUR ACHETER LE FICHIER NON PROTÉGÉ. CETTE PAGE EST PROTÉGÉE.

Quel outillage agricole utilise-t-on le plus souvent dans la grille de bas de page les réponses trouvées en faisant les ombres correspondantes.

6 La stèle

Note dans la grille, en ordre alphabétique, les lettres du nom de la plante dont les fleurs et les fruits sont représentés sur le panneau.

1 Panneau de départ / Parking

L'inspecteur Rando a demandé à deux enfants de dessiner le balisage présent sur le panneau reporté dans la grille de bas de page celui qui s'est pas trompé.

7 Le système forestier

Note dans la grille le nom du petit mammifère qui est représenté sur le panneau.

Continuité

Changement de direction, à gauche

Changement de direction, à droite

Mauvaise section

Changement de direction, à gauche

Changement de direction, à droite

La vitesse diminue

8 La terre

Recherche la hauteur (en mètres) à laquelle le treuil peut gréper la pile de bois.

2 Le chêne pédonculé

Note dans la grille, l'un du nom de cet arbre. Un indice: c'était la nourriture principale des rats!

Dans quel train peux-tu inscrire ce nombre pour qu'il ne soit pas le double.

Note, dans la grille, le nom qui figure sur la locomotive.

3 Le figuier

Trois enfants ont dessiné l'animal qui était représenté avec les figues. Reporte dans la grille le prénom de celui qui ne s'est pas trompé.



CETTE PAGE EST PROTÉGÉE. CETTE PAGE EST PROTÉGÉE.



Charline Bertrand Ferrand

4 La grange "lubilé"

Aux 17^e et 18^e siècles, cherche par quoi la pierre a été remplacée pour la construction des murs. Note ta réponse dans la grille, du puits.

Grille réponses Circuit n° 64 49 301M

1	>									
2	>									
3	>									
4	>									
5	>									
6	>									
7	>									
8	>									

5 La formation des gyénes

Reporte dans la grille le nom du plus haut sommet qui figure dans le panneau.

Ramets en ordre les caractères des cases colorées pour retrouver le nom de la pierre.



ÉNIGME

Depuis 1986, à Monein sont organisées de nombreuses festivités durant la période estivale. Le sport est au cœur de ces fêtes : concours de pétanque, course Landaise, pelote Basque, cyclisme...

Depuis son plus jeune âge, un habitant de Monein a participé à tous les concours de pétanque.

Les enfants du village souhaitent découvrir son identité. Pour cela, ils ont fait appel à l'Inspecteur Rando.

Sauras-tu retrouver dans la liste ci-dessous le participant que les enfants recherchent ?



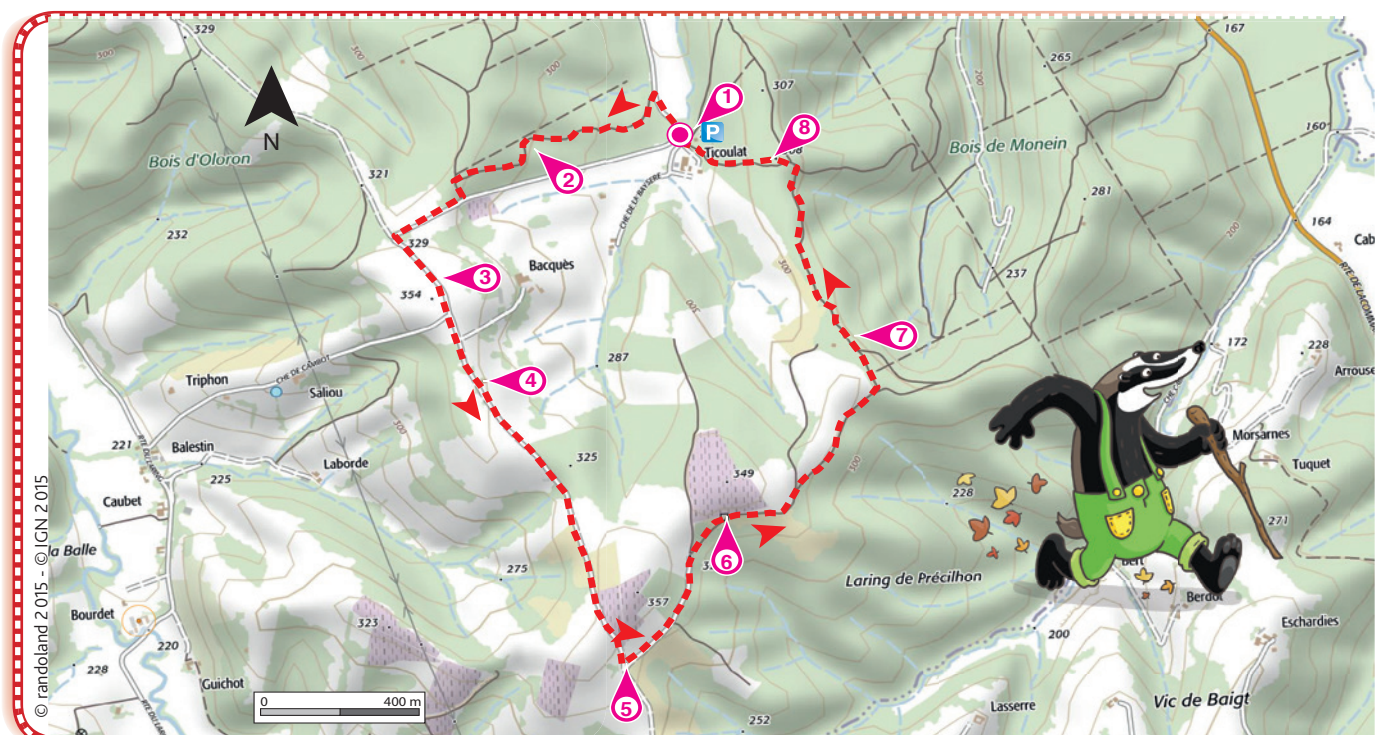
LES PARTICIPANTS

- ▶ **Anaïs Moreno**, née le 16 octobre 1976 à Castetner
- ▶ **Bertrand Dussarrat**, né le 21 février 1975 à Anglet
- ▶ **Charline Perez**, née le 5 septembre 1971 à Estialescq
- ▶ **Charlotte Martin**, née le 28 août 1969 à Montaner
- ▶ **Gaëlle Fourcade**, née le 22 juillet 1970 à Saint-Palais
- ▶ **Julien Etcheverry**, né le 6 avril 1970 à Lescar
- ▶ **Louise Laborde**, née le 14 janvier 1971 à Monein
- ▶ **Luc Moreau**, né le 20 mai 1973 à Lourdes
- ▶ **Noémie Loustau**, née le 9 février 1971 à Mourenx

Tu disposes du plan ci-dessous.

À l'emplacement des points rouges, lis les indications qui te permettront de résoudre l'énigme principale.

À la fin de ta balade, rends-toi à l'office de tourisme ou visite le site www.randoland.fr pour vérifier ta réponse.



POUR ACHETER LE FICHER NON PROTÉGÉ, RENDEZ-VOUS SUR WWW.RANDOLAND.FR

CETTE PAGE EST PROTÉGÉE. CETTE PAGE EST PROTÉGÉE.

Les chiffres inscrits sur les chenilles composent les suites logiques. Dans laquelle peux-tu inscrire le nombre de troncs nécessaires à la construction d'un voilier à l'époque du colbert ?

La formation des Pyrénées
Cherche l'altitude du lieu de ta naissance. Additionne tous les chiffres qui la composent.
Ex : 2024 → 2 + 0 + 2 + 4 = 8

1 Panneau de départ / Parking

En observant la carte, si tu te diriges vers le Nord, quelle ville vas-tu rencontrer ? Un des concurrents est dans cette ville. Mais lequel ? Ce n'est pas celui que tu recherches. Tu peux le trouver en lisant des suspects.

5 La formation des Pyrénées

Cherche l'altitude du lieu de ta naissance. Additionne tous les chiffres qui la composent.
Ex : 2024 → 2 + 0 + 2 + 4 = 8

Cherche la personne qui a réalisé un score identique au résultat de ton calcul au lancer de fléchettes.
Tu peux rayer le participant qui a les mêmes initiales que n'importe quel autre concurrent.

2 Les chenilles géométriques

Les nombres inscrits sur les chenilles composent des suites logiques. Dans laquelle peux-tu inscrire le nombre de troncs nécessaires à la construction d'un voilier à l'époque du colbert ?
Le personnage dont le nom rime avec celui de la chenille qui précède et sur lequel est celui de la chenille qui suit.

6 La stèle

Cherche le nom du lieu de naissance qui correspond à celle de la victime inscrite sur la stèle. Ce nom n'est toujours pas celui que tu recherches.



CETTE PAGE EST PROTÉGÉE. CETTE PAGE EST PROTÉGÉE.

1500 1800 2100 Lili
1500 ... 2500 3000

7 L'écosystème forestier

Cherche le nombre de tonnes de lièges qui est indiqué sur le panneau. Tu peux rayer de la liste le participant dont la date de naissance se termine par ce chiffre.

1500 ... 2500 3000

8 Le lierre

Reproduis le langage du lierre en remplaçant la liane et son arbre...".
Recherche les lettres des suspects qui précèdent et suivent :

1500 ... 2500 3000 Mani

3 Le figuier

Calculer le nombre de jours sous lequel a vécu et allaité les fondateurs de Rome.
Calculer sa date de naissance et que la somme des chiffres vaut + 5 et que les consonnes valent - 2.
Ex : FIGUE → 2 + 5 - 2 + 5 + 5 = 11

2 3 ; 5 - 2 ; 2 - 1 ; 4 - 3 ; 5 - 6 ; 1 - 6 ; 6 - 8

Cherche le chiffre en vert la position de la lettre dans la liste.
Ex : 4-6 signifie : 4e lettre du 6e suspect.

4 La grange "Jubilé"

Sur la photo représentant les maquisards, trouve le nom de l'arme que tiennent les hommes du 5e régiment de chasse.
Tu peux rayer de la liste des participants le nom du concurrent dont le prénom est le double des voyelles du nom de l'arme.

2 3 ; 5 - 2 ; 2 - 1 ; 4 - 3 ; 5 - 6 ; 1 - 6 ; 6 - 8

Tu viens de reconstituer le nom d'une ville. Tu peux rayer le concurrent qui est...

Tu devrais avoir retrouvé le nom du concurrent

Ta réponse :

CETTE PAGE EST PROTÉGÉE. CETTE PAGE EST PROTÉGÉE.